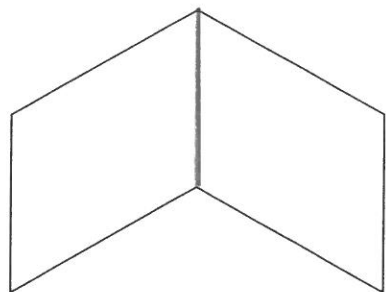


線対称 (6)

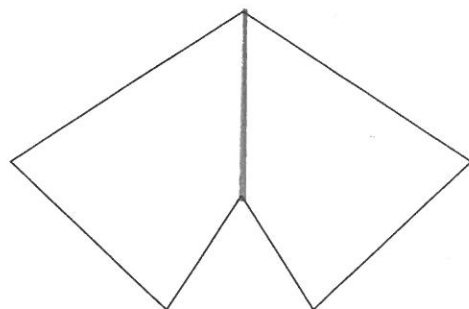
名前

① 下の図形は、どれも線対称な図形です。
対称の軸をひきましょう。

(1)



(2)



② 右の四角形は、線対称な図形で、
直線アイは対称の軸です。

(1) 辺 AB は何 cm ですか。

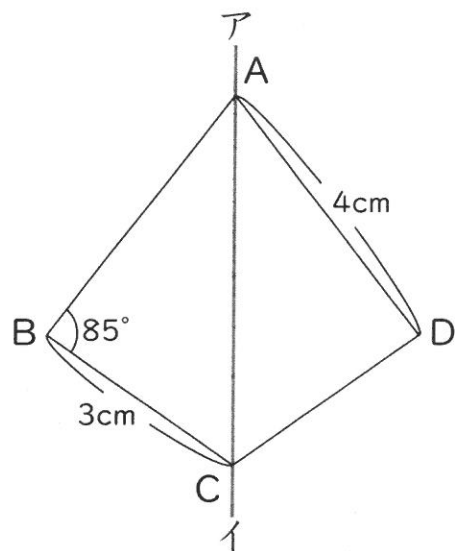
4 cm

(2) 辺 DC は何 cm ですか。

3 cm

(3) 角 D の大きさは何度ですか。

85°

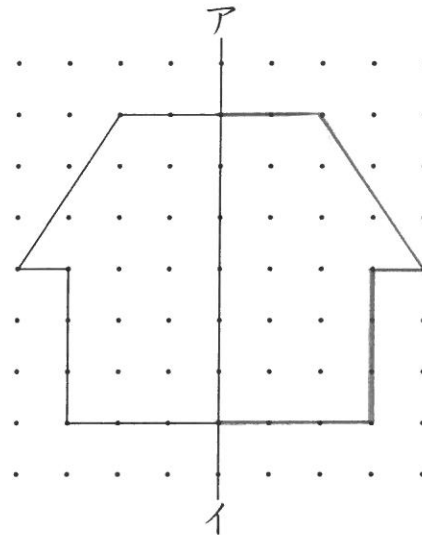


線対称 (7)

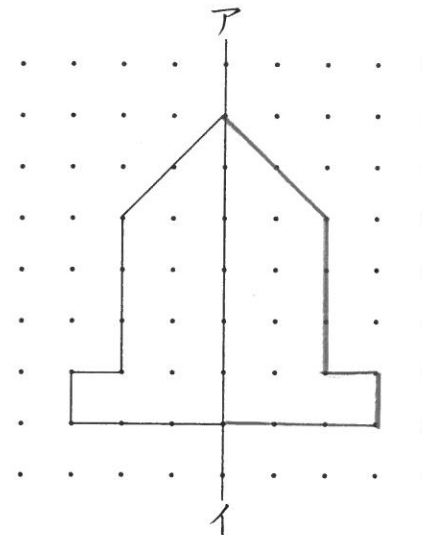
名前

● 直線アイが対称の軸になるように、線対称な図形をかきましょう。

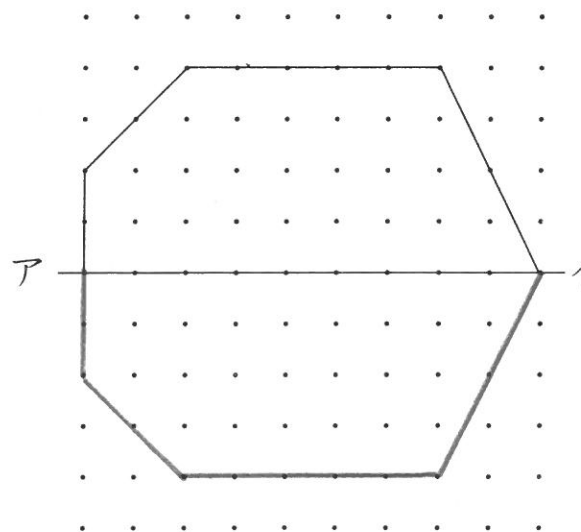
(1)



(2)



(3)



(4)

