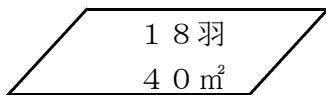


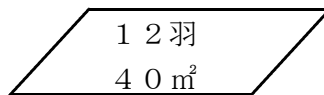
小5 単位量あたりの大きさ(解答)

( ) 年 ( ) 組 ( ) 番 名前 ( )

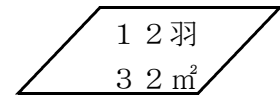
ある学校では、うさぎを飼っています。数が多いので、小屋ア～小屋ウの三つの小屋に分けて飼っています。飼育小屋の広さとうさぎの数は次のとおりです。



小屋ア



小屋イ



小屋ウ

(1) 小屋のこみ具合について、さとみさんとけんさんが話しています。



小屋アと小屋イを比べると、広さが同じなので、入っているうさぎの数が18羽と12羽で小屋アの方が、多いから、小屋アがこんでいるよね。

さとみ

小屋イと小屋ウではどっちがこんでいるんだろうね。

上の話を参考に、小屋イと小屋ウについて、下の□に説明を書きなさい。

小屋イと小屋ウを比べると、うさぎの数が同じなので、部屋の広さが40 m<sup>2</sup>と32 m<sup>2</sup>で小屋ウの方がせまいので、小屋ウの方がこんでいるよ。



けん

(2) 小屋アと小屋ウについて、小屋1 m<sup>2</sup>あたりのうさぎの数で、比べる場合について考えます。次の考え方の□の中に、あてはまる言葉や数、記号を書き入れなさい。

小屋アは、 $18 \div 40 = 0.45$

小屋ウは、 $12 \div 32 = 0.375$

なので、小屋1 m<sup>2</sup>あたりのうさぎの数が **多い** ， 小屋 **ア** の方が  
こんでいる。