


分数 (7)


分数のひき算

名前


① $\frac{4}{3} - \frac{2}{3}$ の計算をします。□にあてはまる数を書きましょう。



$\frac{1}{3}$ が 4 こ



$\frac{1}{3}$ が 2 こ



$\frac{1}{3}$ が 2 こ

$$\frac{4}{3} - \frac{2}{3} = \frac{2}{3}$$

答え

$\frac{2}{3}$

② 計算をしましょう。

① $\frac{9}{5} - \frac{3}{5} = 1\frac{1}{5}$

② $\frac{17}{10} - \frac{14}{10} = \frac{3}{10}$

③ $\frac{7}{4} - \frac{2}{4} = 1\frac{1}{4}$

④ $\frac{13}{7} - \frac{3}{7} = 1\frac{3}{7}$

⑤ $\frac{10}{6} - \frac{9}{6} = \frac{1}{6}$

⑥ $\frac{16}{3} - \frac{4}{3} = 4$

⑦ $\frac{11}{9} - \frac{7}{9} = \frac{4}{9}$

⑧ $\frac{9}{2} - \frac{5}{2} = 2$

⑨ $\frac{14}{8} - \frac{3}{8} = 1\frac{3}{8}$

⑩ $\frac{8}{7} - \frac{5}{7} = \frac{3}{7}$

⑪ $\frac{9}{4} - \frac{5}{4} = 1$

⑫ $\frac{12}{9} - \frac{5}{9} = \frac{7}{9}$